


# Lectura de relojes analógicos

Nombre \_\_\_\_\_ Fecha \_\_\_\_\_


**1** Escribe la hora que marca cada reloj.



**2** Dibuja las manecillas de cada reloj y representa la hora que se indica.



**3** Observa los relojes y escribe cuánto tiempo ha pasado.



**4** Dibuja las horas en un reloj de agujas y contesta.

Javier salió de casa a las 5 menos cuarto de la tarde y regresó 1 hora y media después.  
¿A qué hora regresó?

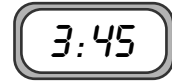
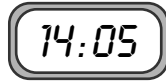
Nuria entró a la biblioteca a las 11 y cuarto de la mañana y salió 2 horas y media después.  
¿A qué hora salió?

Mate+

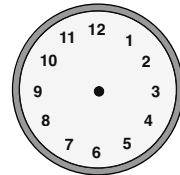

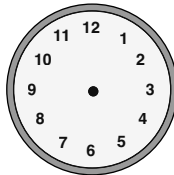
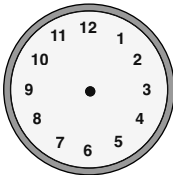
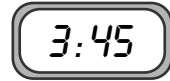
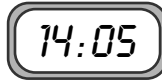
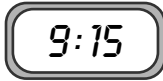
# Lectura de relojes digitales

Nombre \_\_\_\_\_ Fecha \_\_\_\_\_

**1** Observa la hora de cada reloj y escribe si es una hora antes o después del mediodía.



**2** Representa en un reloj de agujas la hora que marca cada reloj digital.



**3** Representa cada hora en un reloj digital.

Ayer Laura se levantó a las 9 y media de la mañana y se acostó a las 10 menos cuarto de la noche.

Jorge ha empezado su clase de tenis a las 5 y veinte de la tarde y terminó a las 6 menos diez.

**4** Representa cada hora en un reloj digital y contesta.

**A** Vicente entró al cine a las 4 y media de la tarde y salió 2 horas y media después. ¿A qué hora salió?

**B** El partido de fútbol comenzó a las 7 y media de la tarde y terminó a las 9 y veinte. ¿Cuánto tiempo duró el partido?

